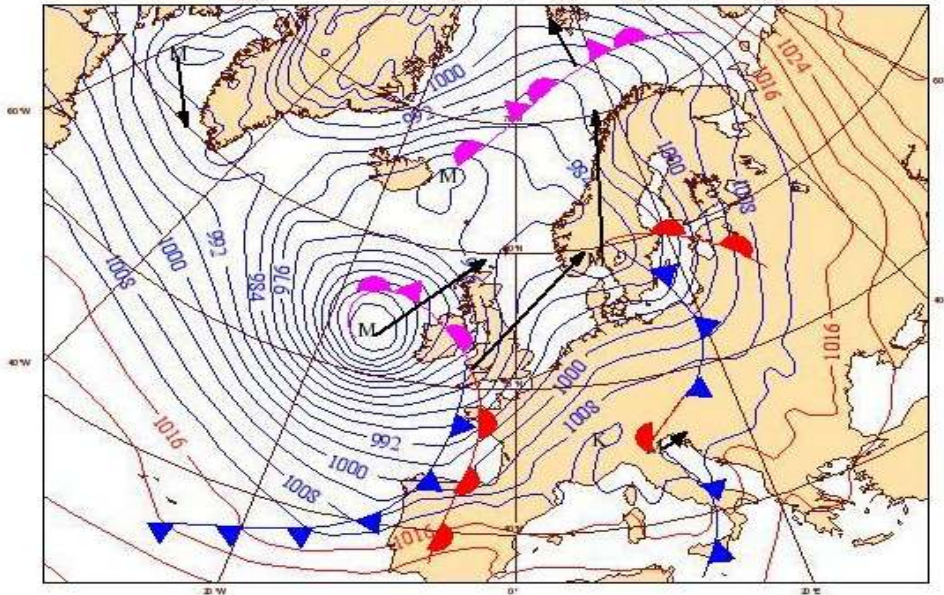


Имя и фамилия ученика _____ Класс _____

Школа _____ Учитель географии _____

1. Ответьте на вопросы на основе карты погоды.

8 б



Ilmakaart 08.02.2014 00 UTC Ailikas: ECMWF ja ILMATEENISTUS

a) Прогноз погоды предсказал в Эстонии дождь. Объясните, на основе карты погоды, почему в Эстонии будет дождь? _____

b) Определите давление воздуха в центре циклона, который расположен вблизи восточного побережья Исландии:

c) Нарисуйте на карте, как дуют ветры в циклоне, расположенном у западного побережья Ирландии.

d) *Да / нет* На Северном море дано штормовое предупреждение.

Да / нет На юге Франции ясная погода.

e) Как меняются элементы погоды в Эстонии при прохождении холодного фронта, показанного на рисунке:

Температура воздуха _____, давление воздуха _____

Ветер сворачивает на *северо-запад / юго-восток / северо-восток*

Осадки *перед фронтом / за фронтом / отсутствуют*

2.a) Объясните, чем отличается теплое течение от холодного?

4б

Школьный тур олимпиады по географии 10–12 класс ВОПРОСЫ 18 ноября 2014

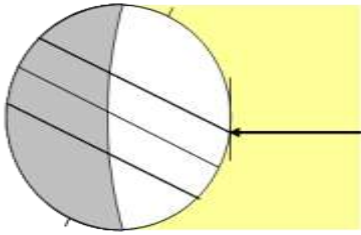
б) Как влияет теплое течение на климат прибрежных областей? _____

Как влияет холодное течение на климат прибрежных областей? _____

3. Распределите города в очередности восхода солнца в день летнего солнцестояния: **2б**

Очередность восхода солнца
Город	Токио	Нью-Йорк	Стамбул	Мурманск	Дели	Хельсинки	Буэнос-Айрес
± мировое время	+9	-5	+2	+3	+5.45	+2	-3
широта	35°N	40°N	40°N	70°N	30°N	60°N	35°S

4. а) Правильно ли, что в Северной Норвегии полярный день, когда солнце находится в



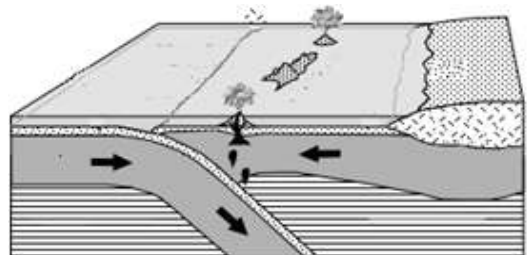
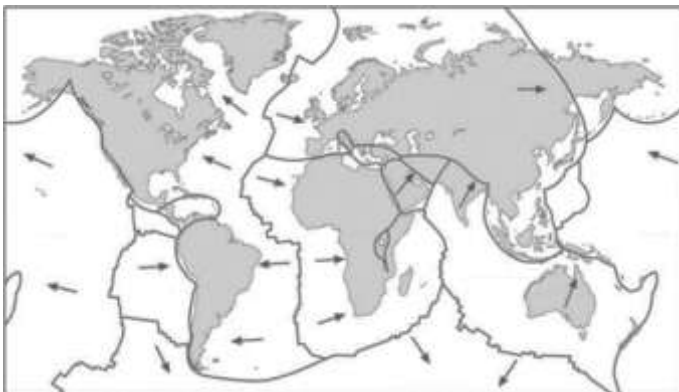
зените в положении, показанном на рисунке? **3б**

Обоснуйте ответ. _____

б) Отметьте на рисунке **северный и южный полярный круг**.

5. а) Укажите на прилагаемой карте одно место, где могло бы происходить движение литосферных плит, показанное на рисунке. **6б**

б) Отметьте **X**-ом геологические процессы, которые характеризуют показанное на рисунке место:



Школьный тур олимпиады по географии 10–12 класс ВОПРОСЫ 18 ноября 2014

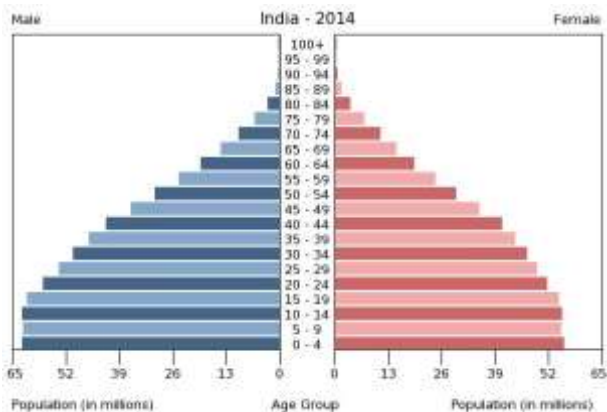
- Землетрясения
- Образование океанической коры
- Субдукция
- Образование вулканического острова
- Образование щитовидных вулканов

- Поглощение океанической коры
- Образование складчатых гор
- Образование глубоководных желобов
- Образование срединно-океанического хребта
- Образование слоистых вулканов

с) Объясните, почему материковая кора значительно *моложе / старше*, чем океаническая кора? _____

6. а) В **Уругвае** рождаемость 13‰ и смертность 9‰. Какова в этой стране доля населения в возрасте 0-14 лет: 41%, 21%; 10% или 5%? Обоснуйте ответ. 6б

б) В **Уганде** рождаемость 44‰ и смертность 11‰. Какова в этой стране доля населения старше 65 лет: 49%, 29%, 12% или 2%? Обоснуйте ответ.

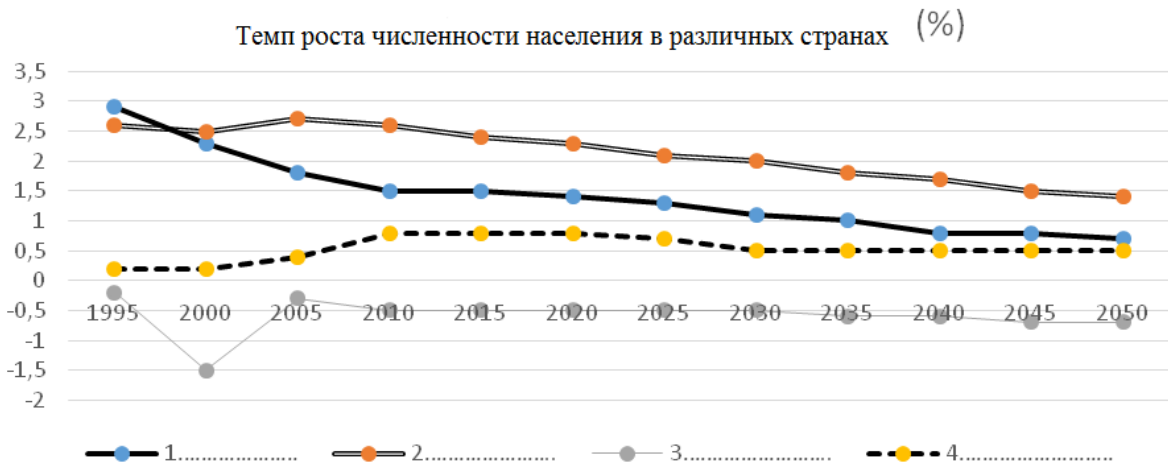


На рисунке показана пирамида населения Индии.

с) Чем отличается пирамида населения **Уганды** от пирамиды населения Индии?

7. На графике показан темп роста численности населения в *Швеции, Сенегале, Сербии и Саудовской Аравии*. 5б

а) Напишите рядом с номерами легенды подходящие страны.



б) Закончите правильные утверждения обоснованием:

Население Сербии сокращается, так как _____

Население Саудовской Аравии растет, так как _____

Население Сенегала растет быстрее, чем в Саудовской Аравии, так как _____

Население всех представленных на рисунке стран сокращается, так как _____

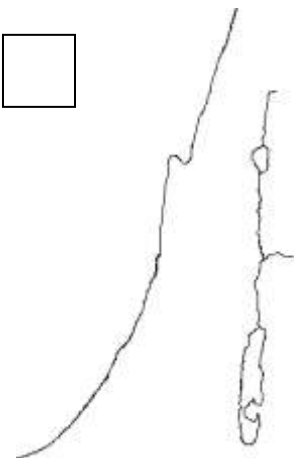
8. а) Укажите на показанной на рисунке территории три географических объекта.

4б

б) С этой территорией связаны два мировых рекорда. Что это за рекорды и какова причина их возникновения?

1) _____

2) _____



9. Что больше всего повлияло на формирование показанного на рисунке рельефа?

5б

Что обозначено на рисунке номерами?

1) _____

2) _____

3) _____

4) _____



10. Что объединяет показанные на этой карте области?

2б

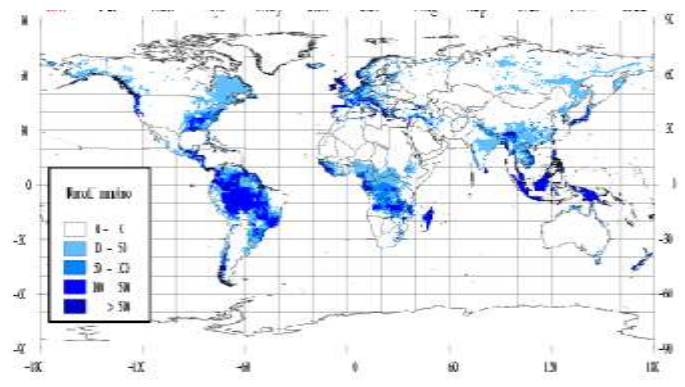
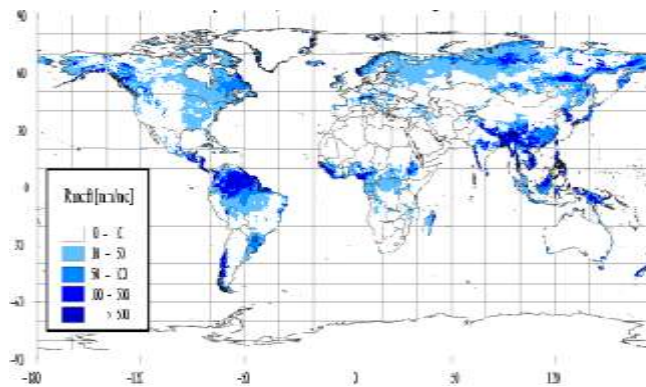


11. На картах внизу показан речной сток. Напишите под картами, какая из них показывает сток в январе? Обоснуйте свое решение двумя аргументами.

2б

1) _____

2) _____



12. В таблице приведены основные продукты экспорта 9-ти стран по данным за 2013 год. Напишите названия стран в соответствующие им строки таблицы

3б

Кот-д'Ивуар, Китай, Исландия, Бразилия, Южно-Африканская республика, Норвегия, Пакистан, Латвия, Швейцария

Страна	Основной экспортный продукт в 2013. году	% от экспорта страны	% от мирового экспорта этого продукта
	железная руда	13	22
	какао и изделия из него	50	10
	алюминий и изделия из него	37	1

Школьный тур олимпиады по географии 10–12 класс ВОПРОСЫ 18 ноября 2014

	лекарства и медикаменты	25	12
	топливо, нефть, нефтепродукты	67	3
	электротовары и электроника	25	27
	древесина, и изделия из нее	15	1
	фрукты	21	8
	платина, золото, алмазы	18	3

13. Объясните, что это или чем занимается:

56

a) горизонтальный (бизнес) кластер _____

b) телемедицина _____

c) спин-офф фирма _____

d) мультимодальный распределительный центр _____

e) транзитный регион _____

14. Что показано на картинках? _____

46



Какие экологические проблемы может вызвать эта деятельность?

Школьный тур олимпиады по географии 10–12 класс ВОПРОСЫ 18 ноября 2014

15. Напишите подходящие подписи, характеризующие эти карикатуры.

26



1) _____

2) _____

Всего 60 балла